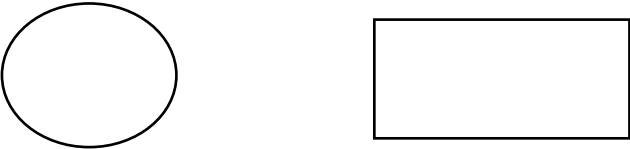




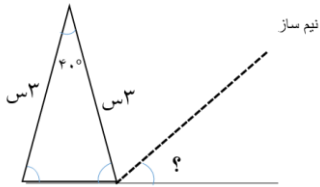
تاریخ آزمون: 1401/3/1

« به نام خدا »

نام و نام خانوادگی:
پایه پنجم ابتدایی مدرسه ی سرای دانش
نام آموزگار: فاطمه حسنی

ردیف	شرح سوال	بارم
1	باتوجه به عدد مقابل به پرسش های زیر پاسخ دهید. الف) رقم 6 در چه مرتبه ای قرار دارد؟ ب) ارزش مکانی کدام رقم بیشتر است؟ ج) عدد را به حروف بنویسید؟	2
2	اگر 80 دقیقه ی دیگر ساعت 9:30 باشد، هم اکنون ساعت چند است؟	1
3	در جای خالی عدد مناسب بنویسید. 7	2
4	پارچه فروشی 40 متر پارچه داشت. بار اول $4\frac{14}{100}$ متر و بار دوم $\frac{3}{4}$ متر پارچه را فروخت. او چند متر پارچه فروخت؟ چند متر پارچه برایش باقی مانده است؟	2
5	محیط مستطیلی 200 متر است. اگر نسبت طول به عرض آن 3 به 2 باشد، مساحت آن چند سانتی متر مربع است؟	2
6	20% دایره و 25% مستطیل را رنگ کنید. 	2
7	محمد مبلغ 2460 تومان از برادرش بیشتر پول دارد، اگر پول او 4 برابر برادرش باشد پول هر کدام چقدر است؟	2
8	امیر با 30% پولش 4 دفتر 3000 تومانی خرید، کل پول او چقدر است؟	2

1

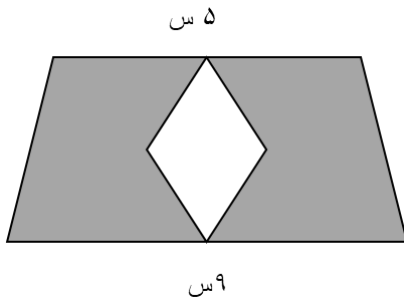


10

مساحت قسمت هاشور خورده را حساب کنید.

2

(اندازه قطرهای لوزی 3 و 4 سانتی متر است)



11

در جاهای خالی عدد مناسب بنویسید.

الف) $0/5$ یعنی تا $0/1$ ب) $6/3$ یعنی تا $0/01$ ج) 45 - عدد 400 می شود تا

د) ثلث زاویه نیم صفحه می شود درجه

جوزوه سیتی

موفق باشید